

# SZÓBELI TÉMAKÖRÖK ÉS KÍSÉRLETLISTA A KÖZÉPSZINTŰ ÉRETTSÉGI VIZSGÁHOZ FIZIKÁBÓL

SZENTENDREI II. RÁKÓCZI FERENC ÁLTALÁNOS ISKOLA ÉS  
GIMNÁZIUM

2018.

## I. MECHANIKA

### 1. Az egyenes vonalú egyenletes mozgás kísérleti vizsgálata és jellemzői

*Az OH által javasolt 2. mérés:*

**Feladat:**


A Mikola-csőben lévő buborék mozgását tanulmányozva igazolja az egyenes vonalú egyenletes mozgásra vonatkozó összefüggést!

*Szükséges eszközök:*

Mikola-cső; dönthető állvány; befogó; stopperóra; mérőszalag.

**A kísérlet leírása:**

Rögzítse a Mikola-csövet a befogó segítségével az állványhoz, és állítsa pl.  $20^\circ$ -os dőlésszögre! Figyelje meg a buborék mozgását, amint az a csőben mozog! A stopperóra és a mérőszalag segítségével mérje meg, hogy mekkora utat tesz meg a buborék egy előre meghatározott időtartam (pl. 3 s) alatt! Ismétlje meg a mérést még kétszer, és minden alkalommal jegyezze fel az eredményt! Utána mérje meg azt, hogy mennyi idő alatt tesz meg a buborék egy előre meghatározott utat (pl. 40 cm-t)! Ezt a mérést is ismétlje meg még kétszer, eredményeit jegyezze fel! Utána növelje meg a Mikola-cső dőlésének szögét  $45^\circ$ -osra és az új elrendezésben ismét mérje meg háromszor, hogy adott idő alatt mennyit mozdul el a buborék, vagy azt, hogy adott távolságot mennyi idő alatt tesz meg!



## 2. A tehetetlenség, a tömeg és a sűrűség fogalma

*Az OH által javasolt 1. mérés:*

### **Feladat:**

A rugós ütközőkkel ellátott kocsik és a rájuk rögzíthető súlyok segítségével tanulmányozza a rugalmas ütközés jelenségét!

*Szükséges eszközök:*

Két egyforma, könnyen mozgó iskolai kiskocsi rugós ütközőkkel; különböző, a kocsikra rögzíthető nehezékek; sima felületű asztal vagy sín.

### **A kísérlet leírása:**

A kocsikat helyezze sima felületű vízszintes asztalra, illetve sínre úgy, hogy a rugós ütközők egymás felé nézzenek! A két kocsira rögzítsen egyforma tömegű nehezékeket, és az egyik kocsit meglökve ütköztesse azt a másik, kezdetben álló kocsival! Figyelje meg, hogy a kocsik hogyan mozognak közvetlenül az ütközés után! Ismétlje meg a kísérletet úgy, hogy a kocsik szerepét felcseréli! Változtassa meg a kocsikra rögzített tömegeket úgy, hogy az egyik kocsi lényegesen nagyobb tömegű legyen a másik kocsinál! Végezze el az ütközési kísérletet úgy, hogy a kisebb tömegű kocsit löki neki a kezdetben álló, nagyobb tömegűnek! Ismétlje meg a kísérletet úgy is, hogy a nagyobb tömegű kocsit löki neki a kezdetben álló, kisebb tömegűnek!



### 3. A forgatónyomaték fogalma

*Az OH által javasolt 4. mérés:*

**Feladat:**

Erőmérővel kiegyensúlyozott karos mérleg segítségével tanulmányozza a merev testre ható forgatónyomatékokat és az egyszerű emelők működési elvét!

*Szükséges eszközök:*

Karos mérleg; erőmérő; súly; mérőszalag vagy vonalzó.

**A kísérlet leírása:**

Egy egyensúlyban lévő karos mérleg egyik oldalára akassza fel az ismert súlyú testet, és jegyezze fel a távolságot a rögzítési pont és a kar forgástengelye között! Rögzítse az erőmérőt a mérleg másik karján, a forgástengelytől ugyanekkora távolságra! Egyensúlyozza ki a mérleget függőleges irányú erővel,

és a mért erőértéket jegyezze le! Változtassa meg az erőmérő rögzítési helyét (pl. a forgástengelytől fele- vagy harmad akkora távolságra, mint az első esetben), és ismét egyensúlyozza ki! A mért erőértéket és

a forgástengelytől való távolságot ismét jegyezze fel!

Készítsen értelmező rajzot, amely az elvégzett mérés esetében a mért erőértékek arányait és irányait magyarázza!



## 4. Az energiaváltozással járó folyamatok jellemzői: teljesítmény, hatásfok

Az OH által javasolt 9. mérés:

### Feladat:

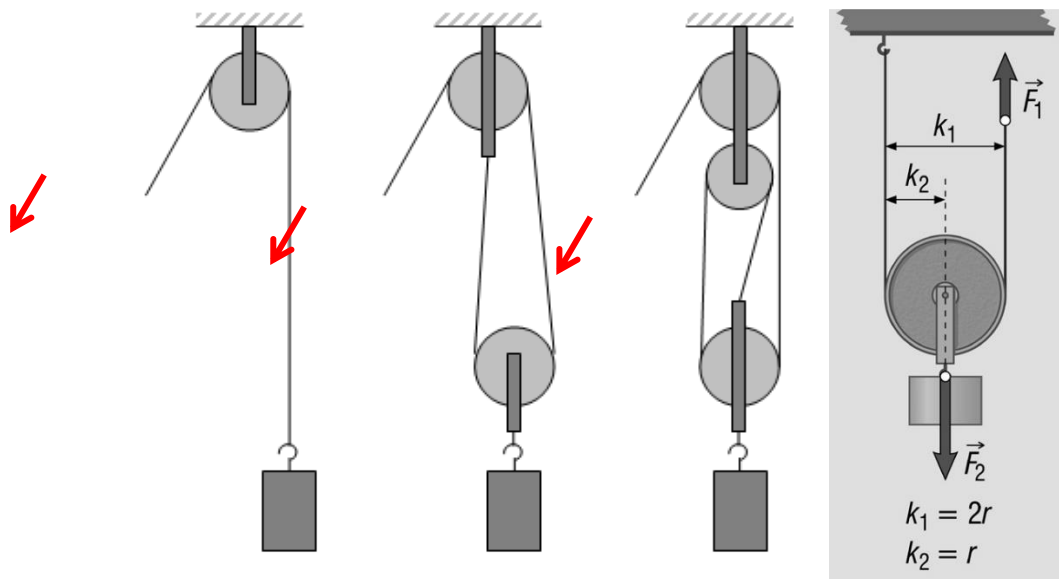
Állítson össze álló- és mozgócsigákból teheremelésre alkalmas rendszert az ábrának megfelelően! Rugós erőmérő segítségével állapítsa meg, hogy mekkora erőre van szükség az ismert tömegű test felemeléséhez a három esetben! Értelmezze a kapott eredményeket!

*Szükséges eszközök:*

Álló- és mozgócsigák; rugós erőmérő; ismert tömegű akasztható súly. A mérés más elrendezésben is megvalósítható, de tartalmazzon álló- és mozgócsigát is!

### A kísérlet leírása:

Állítsa össze az elrendezést, és mérje meg a teher megtartásához szükséges erőket! Vesse össze mérési eredményeit a teher súlyával! Vázolja az egyes csigaelrendezéseket, és rajzolja be az erőket!



## 5. A mechanikai hullámok kísérleti vizsgálata, fajtái és jellemzői

### Feladat:


Hozzon létre hosszú csavarrugón longitudinális és transzverzális hullámot, különböztesse meg és hasonlítsa össze azokat!

### Szükséges eszközök:

Csavarrugó, amelynek hossza legalább 1 m, meneteinek átmérője pedig 8–10 cm.

### A kísérlet leírása:

Az ábrának megfelelően hozzon létre a hosszú csavarrugón longitudinális és transzverzális hullámokat más és más frekvenciával! Rajzolja le a hullám terjedési sebességének irányát a közeg rezgési irányának összehasonlításával!



## 6. Hidrosztatika

Az OH által javasolt 11. mérés:

**Feladat:**

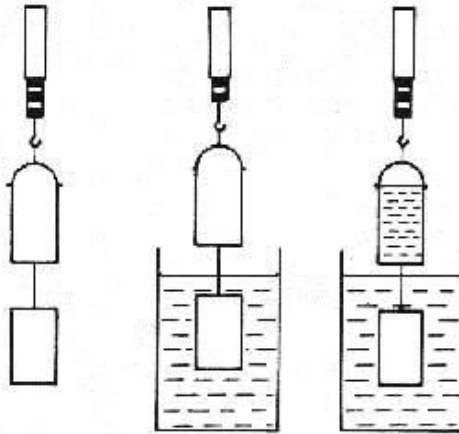
Az arkhimédészi hengerpár segítségével mérje meg a vízbe merülő testre ható felhajtóerő nagyságát!

*Szükséges eszközök:*

Arkhimédészi hengerpár (egy rugós erőmérőre akasztható üres henger, valamint egy abba szorosan illeszkedő, az üres henger aljára akasztható tömör henger); érzékeny rugós erőmérő; főzőpohár.

**A kísérlet leírása:**

Mérje meg az üres henger és az aljára akasztott tömör henger súlyát a levegőn rugós erőmérővel! Ismétlje meg a mérést úgy, hogy a tömör henger teljes egészében vízbe lóg! Ezek után töltsön vizet az üres hengerbe úgy, hogy az csordultig megteljen, s ismétlje meg a mérést így is! Írja fel mindhárom esetben a rugós erőmérő által mért értékeket!



## II. HŐTAN

### 7. A testek hőtágulása

*Az OH által javasolt 14. mérés:*

**Feladat:**

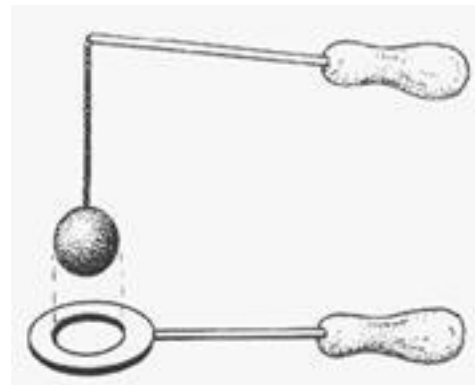
A felfüggesztett fémgolyó éppen átfér a fémgyűrűn (Gravesande-készülék). Melegítse Bunsen-égővel a fémgolyót, vizsgálja meg, hogy ekkor is átfér-e a gyűrűn! Mi történik akkor, ha a gyűrűt is melegíti? Vizsgálja meg a gyűrű és a golyó átmérőjének viszonyát lehűlés közben!

*Szükséges eszközök:*

Gravesande-készülék (házilagosan is elkészíthető); Bunsen-égő; hideg (jeges) víz.

**A kísérlet leírása:**

Győződjön meg arról, hogy a golyó szobahőmérsékleten átfér a gyűrűn! Melegítse fel a golyót, és vizsgálja meg, átfér-e a gyűrűn! Melegítse fel a gyűrűt, és így végezze el a vizsgálatot! Hűtse le a gyűrűt a lehető legalacsonyabb hőmérsékletre, majd tegye rá a golyót, s hagyja fokozatosan lehűlni!



## 8. Halmazállapot-változások

Az OH által javasolt 18. mérés:

### Feladat:

Tanulmányozza szilárd, illetve folyékony halmazállapotú anyag gáz halmazállapotúvá történő átalakulását!

*Szükséges eszközök, anyagok:*

Borszeszégő; kémcső; kémcsőfogó csipesz; vizes papír zsebkendő; könnyen szublimáló kristályos anyag (jó); tű nélküli orvosi műanyag fecskendő; meleg víz.

### A kísérlet leírása:

- Szórjon kevés jódkristályt a kémcső aljára, a kémcső felső végét pedig dugaszolja el lazán a hideg, vizes papír zsebkendővel! A kémcsövet fogja át a kémcsőcsipesszel, és ferdén tartva melegítse óvatosan az alját a borszeszlángban! Figyelje meg a kémcsőben zajló folyamatot! Külön figyelje meg a jódkristályok környezetét és a kémcsövet lezáró vizes papír zsebkendő környezetét is!
- A műanyag orvosi fecskendőbe szívjon kb. negyed-ötöd részig meleg vizet, majd a fecskendő csőrét fölfelé tartva a víz feletti levegőt a dugattyúval óvatosan nyomja ki! Ujjával légmentesen fogja be a fecskendő csőrének nyílását! Húzza hirtelen mozdulattal kifelé a dugattyút! Figyelje meg, hogy mi történik eközben a fecskendőben lévő vízzel! Mit tapasztal?





## 9. Gázok állapotváltozásai

*Az OH által javasolt 16. mérés:*

### **Feladat:**

Egy átfűrt dugóval elzárt, ismert térfogatú lombik kivezetőcsövének végét vezessük egy fejjel lefelé vízbe állított mérőhenger szája alá! Az ábra szerinti elrendezés lehetővé teszi a lombikból kiáramló levegő térfogatának mérését. Mérje meg a meleg vízfürdőbe helyezett lombikból kiáramló levegő térfogatát!

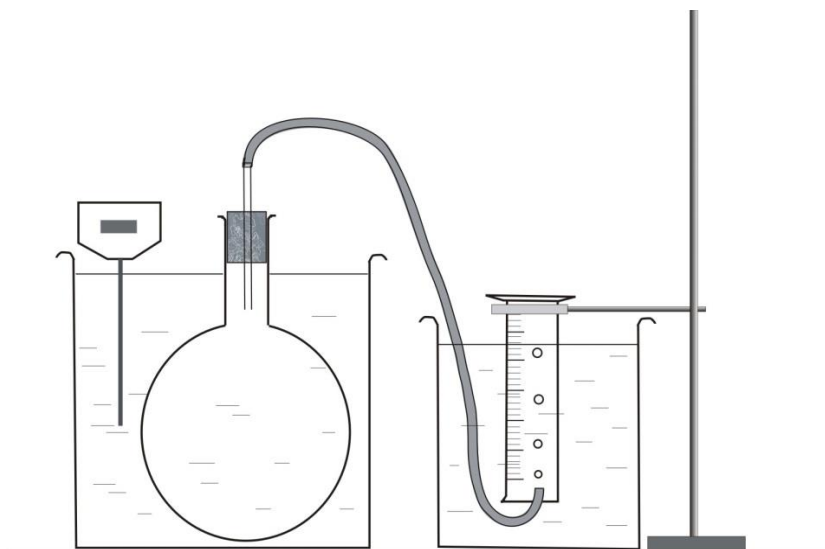
*Szükséges eszközök:*

Átfűrt dugóval elzárt, ismert térfogatú lombik, amelyhez gumicső csatlakozik; mérőhenger; nagyobb üvegedények; víz: hideg és meleg; hőmérő; állvány; fogó; dió.

### **A kísérlet leírása:**

A szájával lefelé fordított mérőhengert állítsa olyan magasságba, hogy a vízszint a mérőhengerben, valamint a mérőhengeren kívül azonos legyen! Olvassa le a mérőhengerben lévő levegő térfogatát! Mérje meg a terem hőmérsékletét!

Állítsa a lombikot langyos vízfürdőbe! A gumicső víz alatti végétől buborékok szállnak fel, amelyeket a mérőhenger felfog. Ha a buborékolás abbamaradt, ismét állítsa be a mérőhenger magasságát úgy, hogy a benti és a kinti vízszint azonos legyen! Ismét mérje meg a mérőhengerbe zárt levegő térfogatát! Mérje meg a vízfürdő hőmérsékletét!



### III. ELEKTROMÁGNESSÉG

## 10. Elektromos töltés, elektromos mező

*Az OH által javasolt 19. mérés:*

**Feladat:**

Különböző anyagok segítségével tanulmányozza a sztatikus elektromos töltés és a töltésmegosztás jelenségét!

*Szükséges eszközök:*

Két elektroszkóp; ebonit- vagy műanyag rúd; ezek dörzsölésére szőrme vagy műszálas textil; üvegrúd; ennek dörzsölésére bőr vagy száraz újságpapír.

**A kísérlet leírása:**

- Dörzsölje meg az ebonitrudat a szőrmével (vagy műszálas textillel), és közelítse az egyik elektroszkóphoz úgy, hogy ne érjen hozzá az elektroszkóp fegyverzetéhez! Mit tapasztal? Mi történik akkor, ha a töltött rudat eltávolítja az elektroszkóptól? Ismétlje meg a kísérletet papírral dörzsölt üvegrúddal! Mit tapasztal?
- Ismétlje meg a kísérletet úgy, hogy a megdörzsölt ebonitrudat érintse hozzá az egyik elektroszkóphoz! Mi történik az elektroszkóp lemezkéivel? Dörzsölje meg az üvegrudat a bőrrrel (vagy újságpapírral), és érintse hozzá a másik elektroszkóphoz! Mi történik az elektroszkóp lemezkéivel? Érintse össze vagy kösse össze vezetővel a két elektroszkópot! Mi történik?



# 11. A mozgási elektromágneses indukció

*Az OH által javasolt 25. mérés:*

**Feladat:**

Légmagos tekercs és mágnesek segítségével tanulmányozza az elektromágneses indukció jelenségét!

*Szükséges eszközök:*

Középállású demonstrációs áramerősség-mérő; különböző menetszámú, vasmag nélküli tekercsek (például 300, 600 és 1200 menetes); 2 db rúd mágnes; vezetékek.

**A kísérlet leírása:**

Csatlakoztassa a tekercs két kivezetését az árammérőhöz! Dugjon be egy mágneset a tekercs hossz tengelye mentén a tekercsbe! Hagyja mozdulatlanul a mágneset a tekercsben, majd húzza ki a mágneset körülbelül ugyanakkora sebességgel, mint amekkorával bedugta! Figyelje közben az áramerősség-mérő műszer kitérését!

Ismételje meg a kísérletet fordított polaritású mágnessel is!

Ismételje meg a kísérletet úgy, hogy gyorsabban (vagy lassabban) mozgatja a mágneset!

Ezután fogja össze a két mágneset és a kettőt együtt mozgatva ismételje meg a kísérleteket!

Ismételje meg a kísérletet kisebb és nagyobb menetszámú tekercsrel is!

Röviden foglalja össze tapasztalatait!



## 12. Soros és párhuzamos kapcsolás

*Az OH által javasolt 21. mérés:*

### **Feladat:**

Egy áramforrás és két zseblámpaizzó segítségével tanulmányozza a soros, illetve a párhuzamos kapcsolás feszültség- és teljesítményviszonyait!


*Szükséges eszközök:*

4,5V-os zseblep (vagy helyettesítő áramforrás); két egyforma zsebizzó foglalatban; kapcsoló; vezetékek; feszültségmérő műszer, áramerősség-mérő műszer (digitális multiméter).

### **A kísérlet leírása:**

Készítsen kapcsolási rajzot két olyan áramkörrel, amelyben a két izzó sorosan, illetve párhuzamosan van kapcsolva!

A rendelkezésre álló eszközökkel állítsa össze mindkét áramkört! Mérje meg a fogyasztókra eső feszültségeket és a fogyasztókon átfolyó áram erősségét mindkét kapcsolás esetén! Figyelje meg az izzók fényerejét mindkét esetben!



## 13. Áramforrások

*Az OH által javasolt 22. mérés:*

**Feladat:**

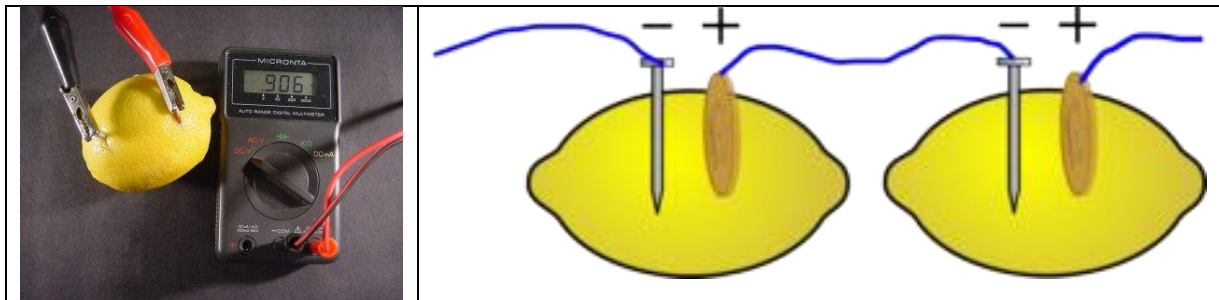
Készítsen galvánelemet citrom, acélszög és rézdarab segítségével! Vizsgálja az elemműködésének jellemzőit soros kapcsolás esetén, illetve fogyasztóra kapcsolva! Mérje meg az elem feszültségét és az áram erősségét az áramkörben!

*Szükséges eszközök:*

Acél- vagy vasszög; rézpénz vagy rézdarab; krokodilcsipesz; drótok; érzékeny multiméter; két citrom. A vasat alumínium, a rezet nikkellal is helyettesítheti.

**A kísérlet leírása:**

Az ábrának megfelelően készítse el a citromelemet! Mérje meg a kapott feszültséget egy, illetve két sorba kapcsolt elem esetében! Mérje meg a mérőműszeren keresztül folyó áram erősségét! Működtessen a teleppel valamilyen elektromos eszközt, pl. LED-izzót!



## IV. OPTIKA

### 14. Leképezés homorú tükörrel

*Az OH által javasolt 28. mérés:*

**Feladat:**

Homorú tükörben vizsgálja néhány tárgy képét! Tapasztalatai alapján jellemezze a homorú tükör képalkotását mind gyakorlati, mind elméleti szempontból!

*Szükséges eszközök:*

Homorú tükör; gyertya; gyufa; ernyő; centiméterszalag.

**A kísérlet leírása:**

A homorú tükör segítségével vetítse az égő gyertya képét az ernyőre!

Állítson elő a tükör segítségével nagyított és kicsinyített képet is! Mérje meg a beállításhoz tartozó tárgy- és képtávolságokat!

Mutassa be, hogy a tükörben mikor láthatunk egyenes állású képet!



## 15. Leképezés üveglencsével

*Az OH által javasolt 27. mérés:*

**Feladat:**

Mérje meg a kiadott üveglencse fókusz távolságát és határozza meg dioptriaértékét!


*Szükséges eszközök:*

Ismeretlen fókusz távolságú üveglencse; sötét, lehetőleg matt felületű fémlemez (ernyőnek); gyertya; mérőszalag; optikai pad vagy az eszközök rögzítésére alkalmas rúd és rögzítők.

**A kísérlet leírása:**

Helyezze a gyertyát az optikai pad tartójára, és gyújtsa meg! Helyezze el az optikai padon a papíreernyőt, az ernyő és a gyertya közé pedig a lencsét! Mozgassa addig a lencsét és az ernyőt, amíg a lángnak éles képe jelenik meg az ernyőn! Mérje le ekkor a kép- és tárgytávolságot, és a leképezési törvény segítségével határozza meg a lencse fókusz távolságát!

A mérés eredményét felhasználva határozza meg a kiadott üveglencse dioptriaértékét!



## ATOMFIZIKA, MAGFIZIKA

### 16. A modern fizika születése. A fényelektromos jelenség

*Az OH által javasolt 30. mérés:*

**Feladat:**

Negatív töltésekkel feltöltött cinklemezt ultraibolya fényforrással világítunk meg. Vizsgáljuk meg, hogyan hat a cinklemez töltéseire az UV-forrás (kvarclámpa) fénye!


*Szükséges eszközök:*

Elektroszkóp; cinklemez; szigetelő állvány; vezető krokodilcsipesszel; üveg- és műanyag rúd; a dörzsöléshez bőr vagy újságpapír, illetve gyapjú vagy selyem; UV-forrás. Ha az eszközök nem állnak rendelkezésre, a kísérlet filmen is letölthető.

**A kísérlet leírása:**

A cinklemezt rögzítse szigetelő állványhoz, majd kösse össze az elektroszkóppal! A műanyag rúd segítségével töltsé fel a cinklemez negatív töltésekkel, majd bocsásson rá ultraibolya sugárzást! Figyelje meg, mit jelez az elektroszkóp mutatója!

Ismételje meg a kísérletet úgy, hogy az elektroszkópot a bőrrel dörzsölt üvegrúd segítségével töltsé fel!





## 17. Az atommodellek kialakulása és fejlődése

*Az OH által javasolt 30. mérés:*

**Feladat:**

A kiadott anyagokat lángba tartva figyelje meg és értelmezze a létrejövő jelenséget!

*Szükséges eszközök:*

PB kemping gázpalack (vagy vezetékes gáz); gázégő; gyufa; különböző fémek (pl. Na, Ca) sói; égetőkanál vagy égetődrót.

**A kísérlet leírása:**

A gázégőt óvatosan gyújtsa meg! A kiadott anyagokat az égetőkanál vagy égetődrót segítségével tartsa a gázlángba, és tartsa ott, amíg a minta fényes izzásba nem jön (kb. 1000-1400°C hőmérsékleten)! Mi történik a lánggal? Végezze el a kísérletet az összes előkészített anyaggal! Megfigyeléseit jegyezze le!



## 18. Atommaghasadás, láncreakció

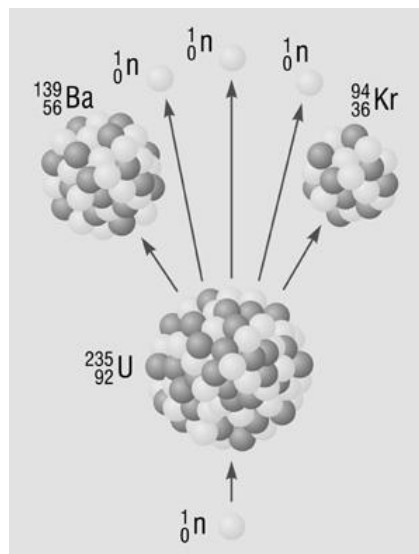
### Feladat:

Ismertesse az atommaghasadás folyamatát a mellékelt 1. ábra segítségével!

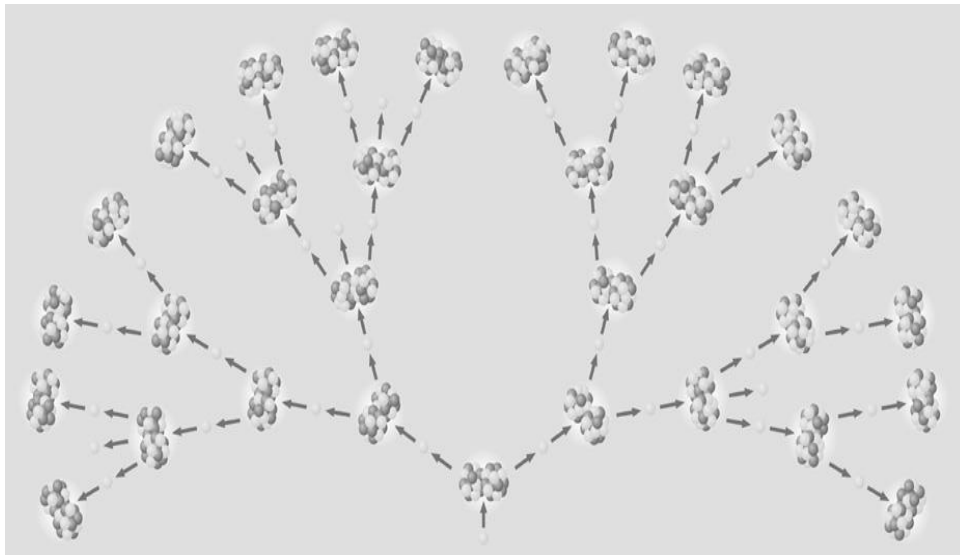
Mutassa be a mellékelt 2. ábra alapján a maghasadás láncreakciójának létrejöttét! Említsen meg legalább két olyan tényezőt, amely szükséges a folyamat megvalósulásához!

Ismertesse az atomreaktor felépítését és működésének alapelvét a mellékelt 3. ábra felhasználásával!

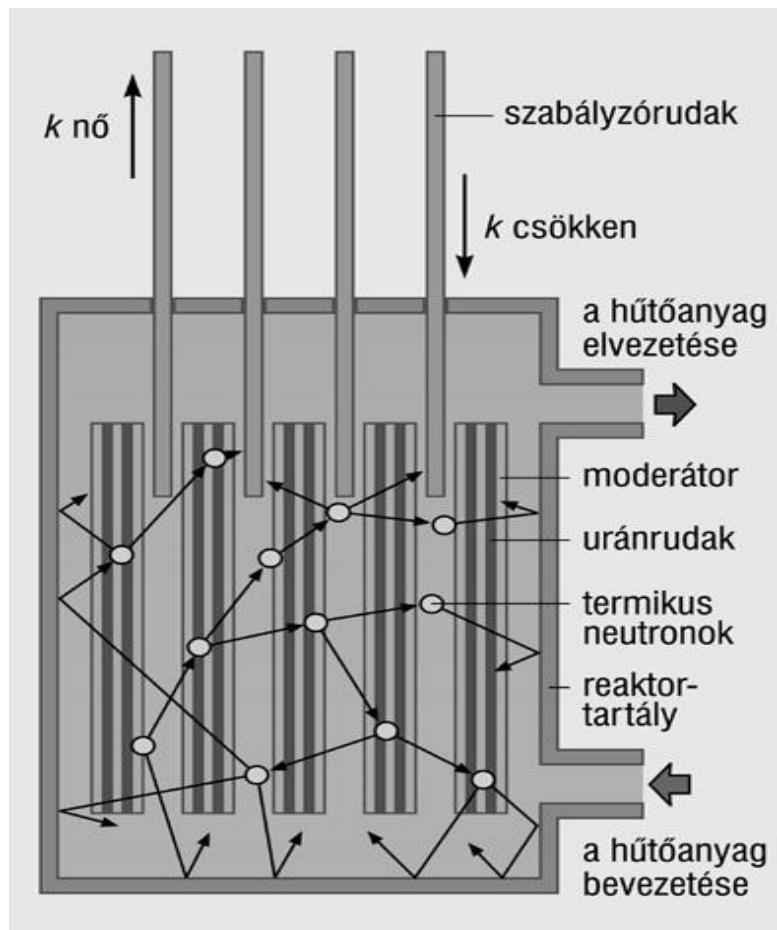
Ismertesse a mellékelt 4. ábra alapján az atombomba működését!



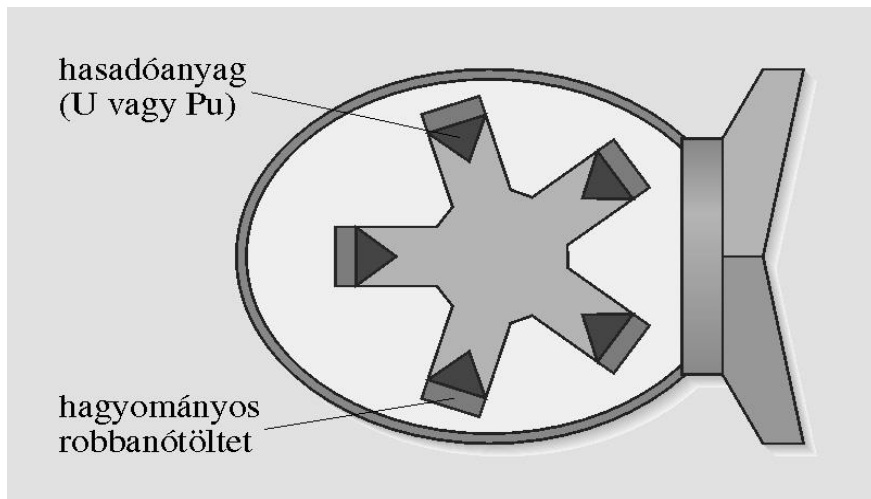
1. ábra



2. ábra



3. ábra



4. ábra

## VI. GRAVITÁCIÓ, CSILLAGÁSZAT

### 19. A gravitációs mező – gravitációs kölcsönhatás

*Az OH által javasolt 37. mérés:*

**Feladat:**

Fonálinga lengésidejének mérésével határozza meg a gravitációs gyorsulás értékét!

*Szükséges eszközök:*

Fonálinga: legalább 30-40 cm hosszú fonálon kisméretű nehezék; stopperóra; mérőszalag; állvány.

**A kísérlet leírása:**

A fonálingát rögzítse az állványra, majd mérje meg a zsinór hosszát és jegyezze le! Kis kitéréssel hozza az ingát lengésbe! Ügyeljen arra, hogy az inga maximális kitérése 20 foknál ne legyen nagyobb! Tíz lengés idejét stopperrel lemérve határozza meg az inga periódusidejét! Mérését ismétlje meg még legalább négyszer! A mérést végezze el úgy is, hogy az inga hosszát megváltoztatja – az új hosszal történő mérést is legalább ötször végezze el!



## 20. A bolygók mozgása. Mesterséges égitestek.

Az OH által javasolt 39. mérés:

### Feladat:

A csatolt program segítségével mutassa be és értelmezze Kepler törvényeit!

<http://astro.unl.edu/naap/pos/animations/kepler.swf>

*Szükséges eszközök:*

Számítógép; Kepler törvényeit animáló program (az angol program kezeléséhez magyar nyelvű útmutató).

